

Kreditkonditionen

Aufgabennummer: B_122

Technologieeinsatz: möglich erforderlich

Frau Mitter benötigt einen Kredit. Etwaige Nebengebühren und Steuern werden im Folgenden nicht berücksichtigt.

a) Ihre Hausbank bietet ihr einen Kredit in Höhe von € 100.000 zu folgenden Konditionen an: Rückzahlung durch vorschüssige Monatsraten bei einem Zinssatz von 4,2 % p. a. und einer Laufzeit von 10 Jahren.

– Ermitteln Sie die Höhe der Monatsraten.

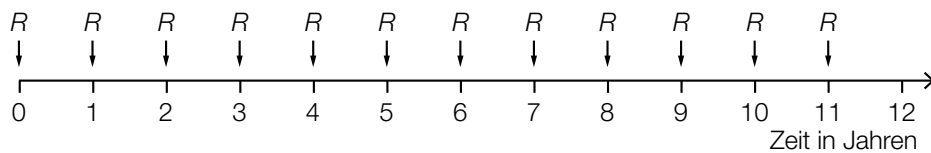
b) Frau Mitter hat die Möglichkeit, einen Teil aus eigenen Ersparnissen zu finanzieren und einen Kredit in Höhe von € 80.000 bei einem Zinssatz von 4,2 % p. a. aufzunehmen. Die Bank erwartet monatlich vorschüssige Rückzahlungen in Höhe von je € 550. Die Rückzahlung beginnt 3 Jahre nach Kreditaufnahme.

– Berechnen Sie, wie viele Jahre und Monate nach Kreditaufnahme die Schuld beglichen ist, wenn die Restzahlung 1 Monat nach der letzten Vollrate fällig ist.

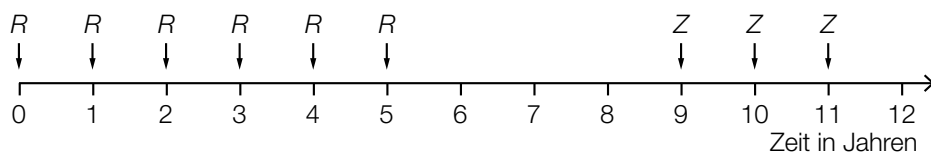
– Stellen Sie diese Situation mit den entsprechenden Rückzahlungsbeträgen grafisch in einer Zeitlinie dar.

c) Die nachstehenden Grafiken zeigen in Zeitlinien 2 weitere Rückzahlungsvarianten eines Kredits mit jährlichen Raten R bzw. Z mit dem Jahreszinssatz i .

1. Variante:



2. Variante:



- Beschreiben Sie die beiden Zahlungsweisen in Worten.
- Argumentieren Sie, dass die angegebene Gleichung den Wert von Z richtig beschreibt.

$$Z = R \cdot (1 + q^3), \text{ wobei } q = 1 + i \text{ bedeutet}$$

Hinweis zur Aufgabe:

Lösungen müssen der Problemstellung entsprechen und klar erkennbar sein. Ergebnisse sind mit passenden Maßeinheiten anzugeben. Diagramme sind zu beschriften und zu skalieren.

Möglicher Lösungsweg

$$\text{a) } q_{12} = \sqrt[12]{1,042}$$

$$100\,000 = R \cdot \frac{q_{12}^{120} - 1}{q_{12} - 1} \cdot \frac{1}{q_{12}^{119}} \Rightarrow R = 1\,014,739\dots$$

Die Höhe der Rate beträgt € 1.014,74.

$$\text{b) } 80\,000 \cdot 1,042^3 = 550 \cdot \frac{q_{12}^n - 1}{q_{12} - 1} \cdot \frac{1}{q_{12}^{n-1}}$$

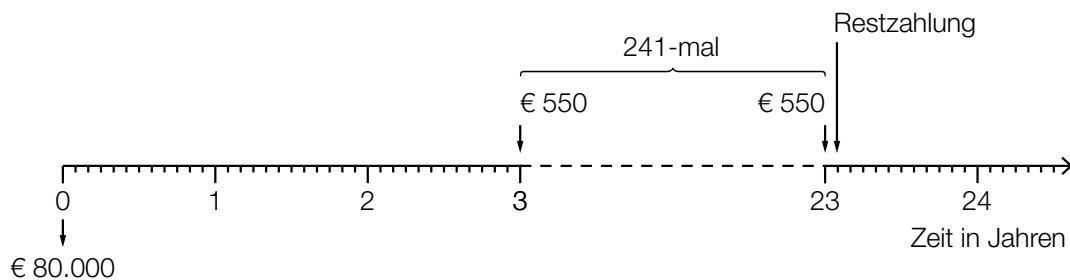
Lösung mittels Technologieeinsatz:

$$n = 241,61\dots$$

Frau Mitter muss 241 vorschüssige Monatsraten zahlen.

Die Restzahlung erfolgt daher 241 Monate (= 20 Jahre und 1 Monat) nach Beginn der Rückzahlung.

Das bedeutet, 23 Jahre und 1 Monat nach Kreditaufnahme ist die Schuld beglichen.



c) Das erste Angebot zeigt 12 jährliche vorschüssige Rückzahlungsraten R .

Das zweite Angebot zeigt die Rückzahlung mit 6 jährlichen vorschüssigen Raten R , der Endwert dieser 6 Raten wird 6 Jahre weiterverzinst, 3 Jahre sind ohne Rückzahlung und anschließend folgen 3 jährliche vorschüssige Raten Z , die die Rückzahlung abschließen.

Es wird 3-mal Z statt 6-mal R eingezahlt. Jedes Z steht demnach für 2 Zahlungen von R mit jeweils 3 Jahren zwischen den Einzahlungen. Wegen der jährlichen Verzinsung, die noch jeweils dazukommt, muss für jedes einzelne Z gelten:

$$Z = R + R \cdot q^3 \Rightarrow \text{daher ist } Z = R \cdot (1 + q^3)$$

Man kommt auch mit anderen Überlegungen zu diesem Ergebnis (z. B.: der Endwert von 6 R -Raten entspricht jenem der letzten 3 Z -Raten).

Klassifikation

Teil A Teil B

Wesentlicher Bereich der Inhaltsdimension:

- a) 3 Funktionale Zusammenhänge
- b) 3 Funktionale Zusammenhänge
- c) 3 Funktionale Zusammenhänge

Nebeninhaltsdimension:

- a) —
- b) —
- c) —

Wesentlicher Bereich der Handlungsdimension:

- a) A Modellieren und Transferieren
- b) A Modellieren und Transferieren
- c) C Interpretieren und Dokumentieren

Nebenhandlungsdimension:

- a) B Operieren und Technologieeinsatz
- b) B Operieren und Technologieeinsatz
- c) D Argumentieren und Kommunizieren

Schwierigkeitsgrad:

- a) mittel
- b) mittel
- c) schwer

Punkteanzahl:

- a) 2
- b) 4
- c) 3

Thema: Wirtschaft

Quellen: —